

## 模块三 三角函数的图象性质

### 第 1 节 求三角函数解析式 $f(x) = A\sin(\omega x + \varphi) + B$ (★★★)

#### 内容提要

求三角函数解析式  $f(x) = A\sin(\omega x + \varphi) + B$  的常见题型有恒等变换化简、根据图象求解析式等.

1. 恒等变换化简得到  $f(x) = A\sin(\omega x + \varphi) + B$ : 一般分“拆”、“降”、“合”三步.

①拆: 若解析式中有  $\cos(2x - \frac{\pi}{6})$  这类结构, 通常先拆开;

②降: 遇到  $\sin^2 x$ ,  $\cos^2 x$ ,  $\sin x \cos x$  这些结构, 可降次; (“拆”和“降”的顺序要视情况而定)

③合: 完成前两步后, 通常就化为了  $f(x) = a\sin \omega x + b\cos \omega x + B$  这类结构, 最后可利用辅助角公式合并.

2. 根据图象求解析式  $f(x) = A\sin(\omega x + \varphi) + B$ :

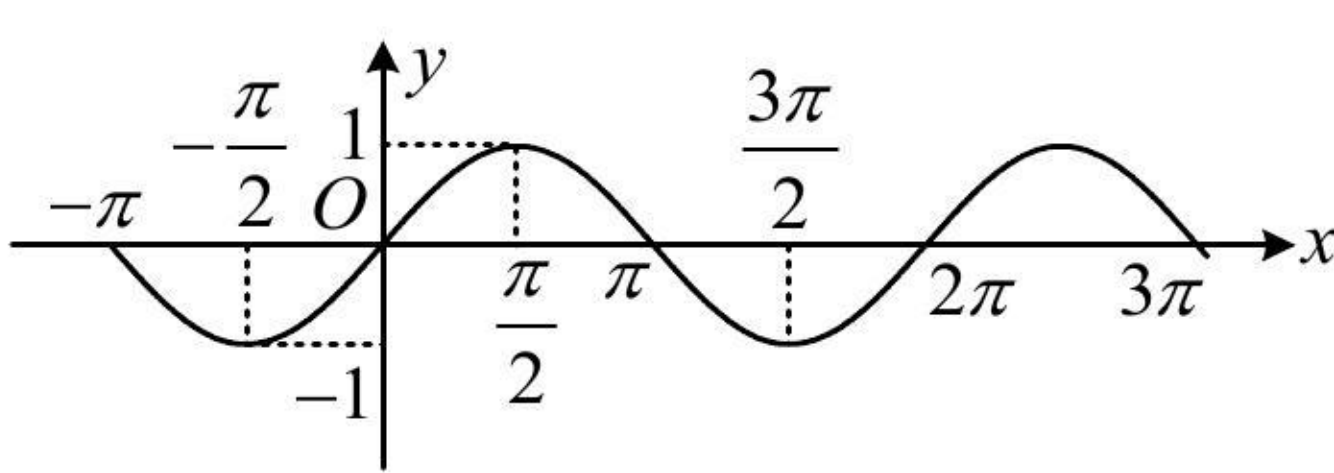
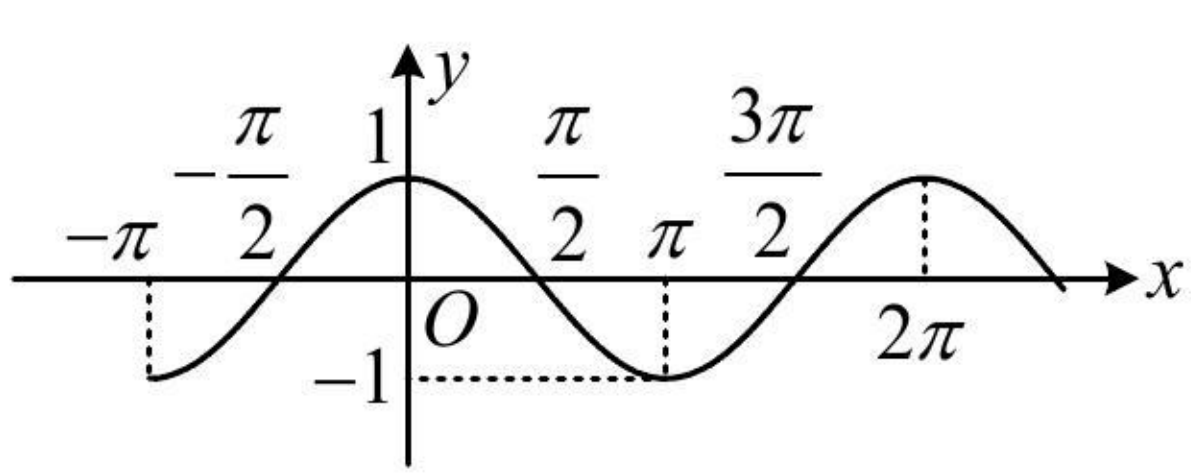
①用最大值和最小值求  $A$ : 
$$\begin{cases} f(x)_{\max} = |A| + B \\ f(x)_{\min} = -|A| + B \end{cases} \Rightarrow |A| = \frac{f(x)_{\max} - f(x)_{\min}}{2};$$

②用最大值和最小值求  $B$ : 
$$\begin{cases} f(x)_{\max} = |A| + B \\ f(x)_{\min} = -|A| + B \end{cases} \Rightarrow B = \frac{f(x)_{\max} + f(x)_{\min}}{2};$$

③用最小正周期  $T$  求  $\omega$ :  $|\omega| = \frac{2\pi}{T};$

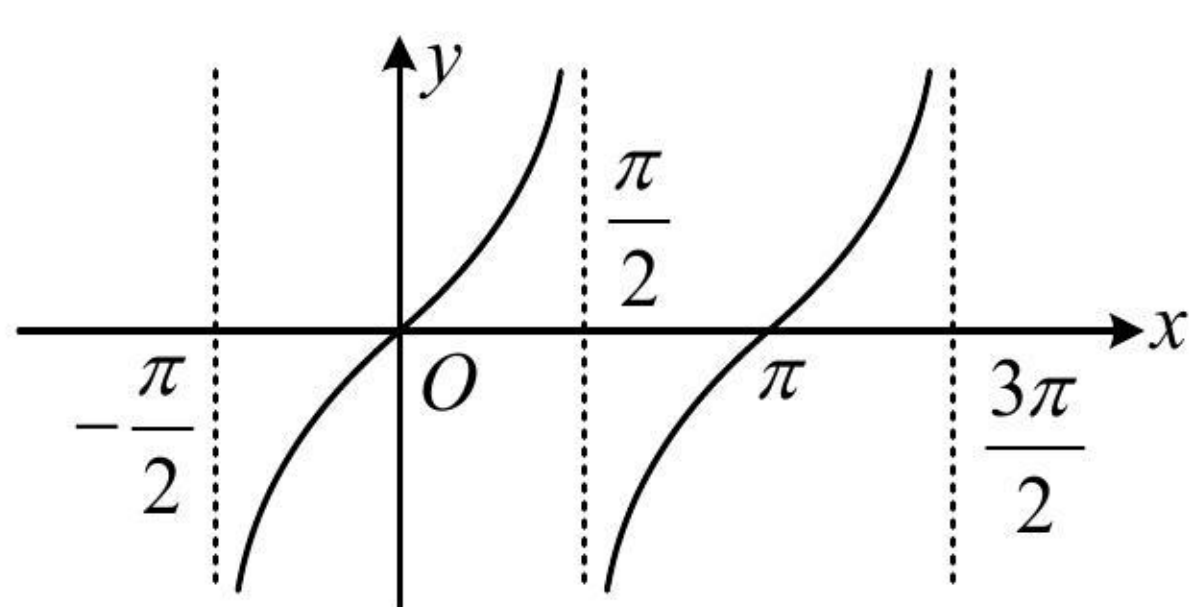
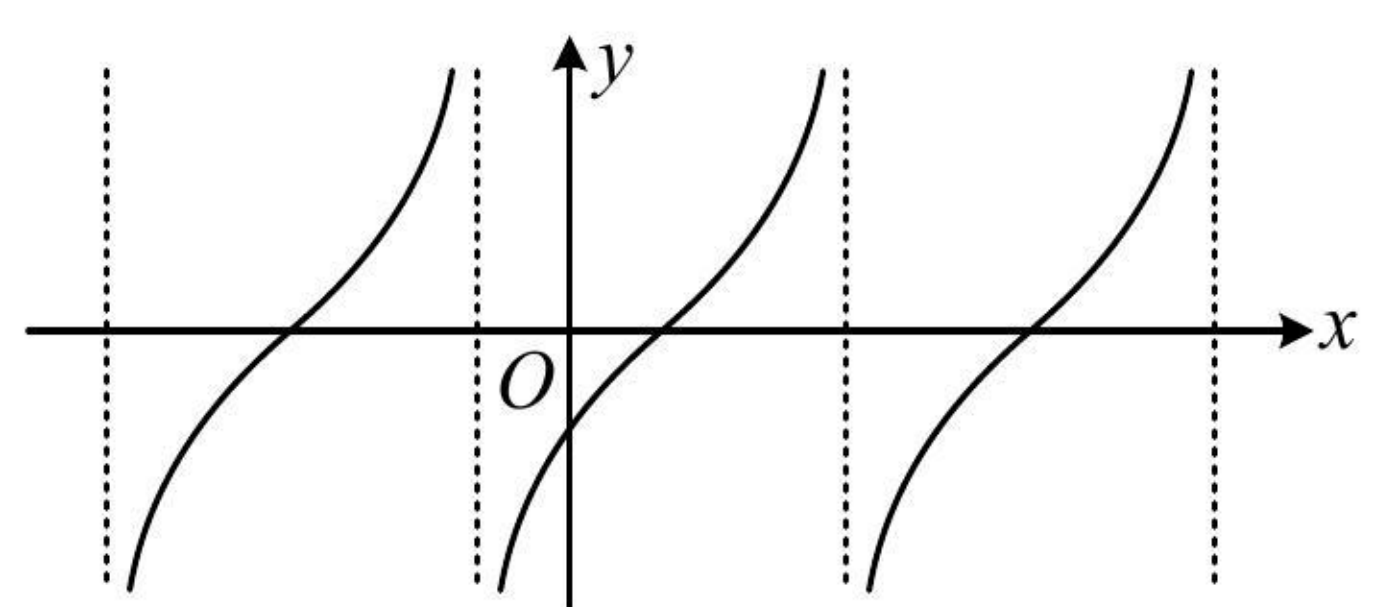
④最值点求  $\varphi$ : 将函数图象上的最大值或最小值点代入解析式, 求出  $\varphi$ . 若图象上没有标出最值点, 也无法通过简单的推理得出最值点, 则考虑代图象上的其它已知点求  $\varphi$ . 之所以首选最值点, 是因为一个周期内, 只有最大值或最小值点是唯一的, 若代其它点, 可能会有增根需要舍去.

3.  $y = \sin x$  和  $y = \cos x$  的图象及性质

函数	$y = \sin x$	$y = \cos x$
图象		
定义域	$\mathbf{R}$	$\mathbf{R}$
值域	$[-1, 1]$	$[-1, 1]$
周期性	最小正周期为 $2\pi$	最小正周期为 $2\pi$
奇偶性	奇函数	偶函数
单调性	单调递增区间: $[2k\pi - \frac{\pi}{2}, 2k\pi + \frac{\pi}{2}](k \in \mathbf{Z})$ 单调递减区间: $[2k\pi + \frac{\pi}{2}, 2k\pi + \frac{3\pi}{2}](k \in \mathbf{Z})$	单调递增区间: $[2k\pi - \pi, 2k\pi](k \in \mathbf{Z})$ 单调递减区间: $[2k\pi, 2k\pi + \pi](k \in \mathbf{Z})$
最值	当 $x = 2k\pi + \frac{\pi}{2} (k \in \mathbf{Z})$ 时, $y_{\max} = 1$ 当 $x = 2k\pi - \frac{\pi}{2} (k \in \mathbf{Z})$ 时, $y_{\min} = -1$	当 $x = 2k\pi (k \in \mathbf{Z})$ 时, $y_{\max} = 1$ 当 $x = 2k\pi + \pi (k \in \mathbf{Z})$ 时, $y_{\min} = -1$
对称轴	$x = k\pi + \frac{\pi}{2} (k \in \mathbf{Z})$	$x = k\pi (k \in \mathbf{Z})$

对称中心	$(k\pi, 0)(k \in \mathbf{Z})$	$(k\pi + \frac{\pi}{2}, 0)(k \in \mathbf{Z})$
------	-------------------------------	---

4.  $y = \tan x$  的图象及性质

函数	$y = \tan x$	$y = A \tan(\omega x + \varphi)(A > 0, \omega > 0)$
图象		
定义域	$\{x   x \neq k\pi + \frac{\pi}{2}, k \in \mathbf{Z}\}$	$\{x   \omega x + \varphi \neq k\pi + \frac{\pi}{2}, k \in \mathbf{Z}\}$
值域	$\mathbf{R}$	$\mathbf{R}$
最小正周期	$\pi$	$\frac{\pi}{\omega}$
奇偶性	奇函数	当 $\varphi = \frac{k\pi}{2}(k \in \mathbf{Z})$ 时为奇函数, 否则为非奇非偶函数
增区间	$(k\pi - \frac{\pi}{2}, k\pi + \frac{\pi}{2})(k \in \mathbf{Z})$	$(\frac{1}{\omega}(k\pi - \frac{\pi}{2} - \varphi), \frac{1}{\omega}(k\pi + \frac{\pi}{2} - \varphi))(k \in \mathbf{Z})$
对称中心	$(\frac{k\pi}{2}, 0)(k \in \mathbf{Z})$	$(\frac{1}{\omega}(\frac{k\pi}{2} - \varphi), 0)(k \in \mathbf{Z})$

5. 设  $A > 0, \omega > 0$ , 则函数  $y = A \sin(\omega x + \varphi)$  和  $y = A \cos(\omega x + \varphi)$  的性质如下表:

函数	$y = A \sin(\omega x + \varphi)$	$y = A \cos(\omega x + \varphi)$
定义域	$\mathbf{R}$	$\mathbf{R}$
值域	$[-A, A]$	$[-A, A]$
周期性	最小正周期为 $\frac{2\pi}{\omega}$	最小正周期为 $\frac{2\pi}{\omega}$
单调性	增区间: $2k\pi - \frac{\pi}{2} \leq \omega x + \varphi \leq 2k\pi + \frac{\pi}{2}(k \in \mathbf{Z})$ 减区间: $2k\pi + \frac{\pi}{2} \leq \omega x + \varphi \leq 2k\pi + \frac{3\pi}{2}(k \in \mathbf{Z})$	增区间: $2k\pi - \pi \leq \omega x + \varphi \leq 2k\pi(k \in \mathbf{Z})$ 减区间: $2k\pi \leq \omega x + \varphi \leq 2k\pi + \pi(k \in \mathbf{Z})$
最值	当 $\omega x + \varphi = 2k\pi + \frac{\pi}{2}(k \in \mathbf{Z})$ 时, $y_{\max} = A$ 当 $\omega x + \varphi = 2k\pi - \frac{\pi}{2}(k \in \mathbf{Z})$ 时, $y_{\min} = -A$	当 $\omega x + \varphi = 2k\pi(k \in \mathbf{Z})$ 时, $y_{\max} = A$ 当 $\omega x + \varphi = 2k\pi + \pi(k \in \mathbf{Z})$ 时, $y_{\min} = -A$
对称轴	$\omega x + \varphi = k\pi + \frac{\pi}{2}(k \in \mathbf{Z})$	$\omega x + \varphi = k\pi(k \in \mathbf{Z})$
对称中心	$(\frac{1}{\omega}(k\pi - \varphi), 0)(k \in \mathbf{Z})$	$(\frac{1}{\omega}(k\pi + \frac{\pi}{2} - \varphi), 0)(k \in \mathbf{Z})$

典型例题

类型 I: 化简求解析式

【例 1】已知函数  $f(x) = \sin x \cos(x + \frac{\pi}{6})$ , 则  $f(x)$  的最小正周期为\_\_\_\_, 值域为\_\_\_\_\_.

解析: 要求周期和值域, 得把解析式化为  $y = A \sin(\omega x + \varphi) + B$  这种形式, 先拆  $\cos(x + \frac{\pi}{6})$  这部分,

由题意,  $f(x) = \sin x (\cos x \cos \frac{\pi}{6} - \sin x \sin \frac{\pi}{6}) = \frac{\sqrt{3}}{2} \sin x \cos x - \frac{1}{2} \sin^2 x,$

再对  $\sin x \cos x$  和  $\sin^2 x$  降次, 所以  $f(x) = \frac{\sqrt{3}}{4} \sin 2x - \frac{1}{2} \cdot \frac{1 - \cos 2x}{2} = \frac{\sqrt{3}}{4} \sin 2x + \frac{1}{4} \cos 2x - \frac{1}{4}$ ,

最后用辅助角公式合并, 故  $f(x) = \frac{1}{2} \sin(2x + \frac{\pi}{6}) - \frac{1}{4}$ , 所以  $f(x)$  的最小正周期  $T = \frac{2\pi}{2} = \pi$ ,

最小值为  $-\frac{3}{4}$ , 最大值为  $\frac{1}{4}$ , 故  $f(x)$  的值域为  $[-\frac{3}{4}, \frac{1}{4}]$ .

答案:  $\pi, [-\frac{3}{4}, \frac{1}{4}]$

**【反思】**化简三角函数解析式的步骤: ①拆: 例如本题遇到  $\cos(x + \frac{\pi}{6})$  这种结构, 将其拆开; ②降: 用降次公式对  $\sin^2 x$ ,  $\cos^2 x$ ,  $\sin x \cos x$  这类项降次; ③合: 用辅助角公式合并.

**【变式】**(2019·浙江卷节选) 设函数  $f(x) = \sin x (x \in \mathbf{R})$ , 求函数  $y = [f(x + \frac{\pi}{12})]^2 + [f(x + \frac{\pi}{4})]^2$  的值域.

解: 由题意,  $y = [f(x + \frac{\pi}{12})]^2 + [f(x + \frac{\pi}{4})]^2 = \sin^2(x + \frac{\pi}{12}) + \sin^2(x + \frac{\pi}{4})$ ,

(要求该函数的值域, 应将其化为  $y = A \sin(\omega x + \varphi) + B$  的形式, 先用降次公式降次)

$$y = \sin^2(x + \frac{\pi}{12}) + \sin^2(x + \frac{\pi}{4}) = \frac{1 - \cos(2x + \frac{\pi}{6})}{2} + \frac{1 - \cos(2x + \frac{\pi}{2})}{2} = \frac{1 - \cos(2x + \frac{\pi}{6})}{2} + \frac{1 + \sin 2x}{2},$$

(接下来拆  $\cos(2x + \frac{\pi}{6})$  这部分, 随后再用辅助角公式合并)

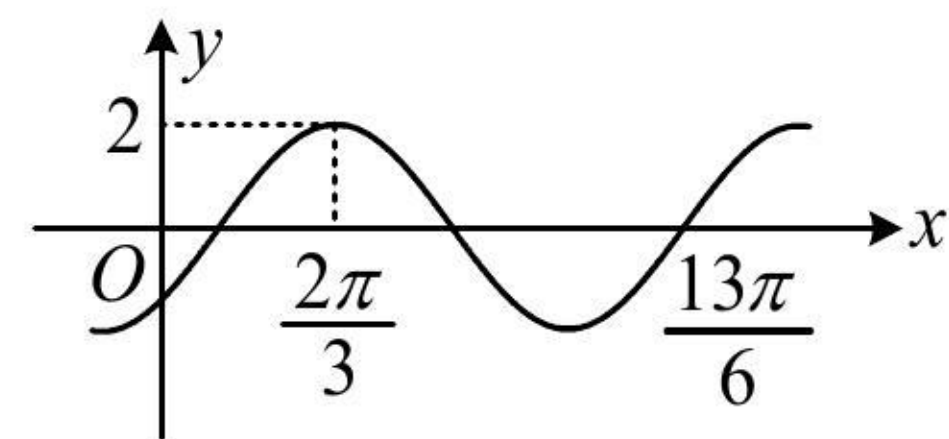
$$y = 1 - \frac{1}{2}(\cos 2x \cos \frac{\pi}{6} - \sin 2x \sin \frac{\pi}{6}) + \frac{1}{2} \sin 2x = 1 + \frac{3}{4} \sin 2x - \frac{\sqrt{3}}{4} \cos 2x = 1 + \frac{\sqrt{3}}{2} \sin(2x - \frac{\pi}{6}),$$

因为  $-1 \leq \sin(2x - \frac{\pi}{6}) \leq 1$ , 所以函数  $y = [f(x + \frac{\pi}{12})]^2 + [f(x + \frac{\pi}{4})]^2$  的值域是  $[1 - \frac{\sqrt{3}}{2}, 1 + \frac{\sqrt{3}}{2}]$ .

**【反思】**若解析式中有像  $\sin^2(x + \frac{\pi}{12})$  这类平方项, 应先降次, 而不是先拆角, 再平方展开, 降次, 合并.

## 类型 II: 由部分图象求解析式

**【例 2】**如图是  $f(x) = A \sin(\omega x + \varphi) (A > 0, \omega > 0, |\varphi| < \frac{\pi}{2})$  的部分图象, 则  $f(x) = \underline{\hspace{2cm}}$ .



解析: 从图象可以看出  $f(x)$  的最大值, 可由此求出  $A$ , 由图可知  $A = 2$ ;

图象上  $\frac{2\pi}{3}$  到  $\frac{13\pi}{6}$  这一段是  $\frac{3}{4}$  个周期, 所以周期可求, 那么  $\omega$  也就有了,

$$\frac{13\pi}{6} - \frac{2\pi}{3} = \frac{3\pi}{2} = \frac{3}{4}T, \text{ 所以 } T = 2\pi, \text{ 故 } \omega = \frac{2\pi}{T} = 1;$$

最后代点求  $\varphi$ , 首选最值点, 此处本身就给出  $\frac{2\pi}{3}$  这个最大值点, 就代它,

由图可知,  $f(\frac{2\pi}{3}) = 2\sin(\frac{2\pi}{3} + \varphi) = 2 \Rightarrow \sin(\frac{2\pi}{3} + \varphi) = 1 \Rightarrow \frac{2\pi}{3} + \varphi = 2k\pi + \frac{\pi}{2} \Rightarrow \varphi = 2k\pi - \frac{\pi}{6} (k \in \mathbf{Z})$ ,

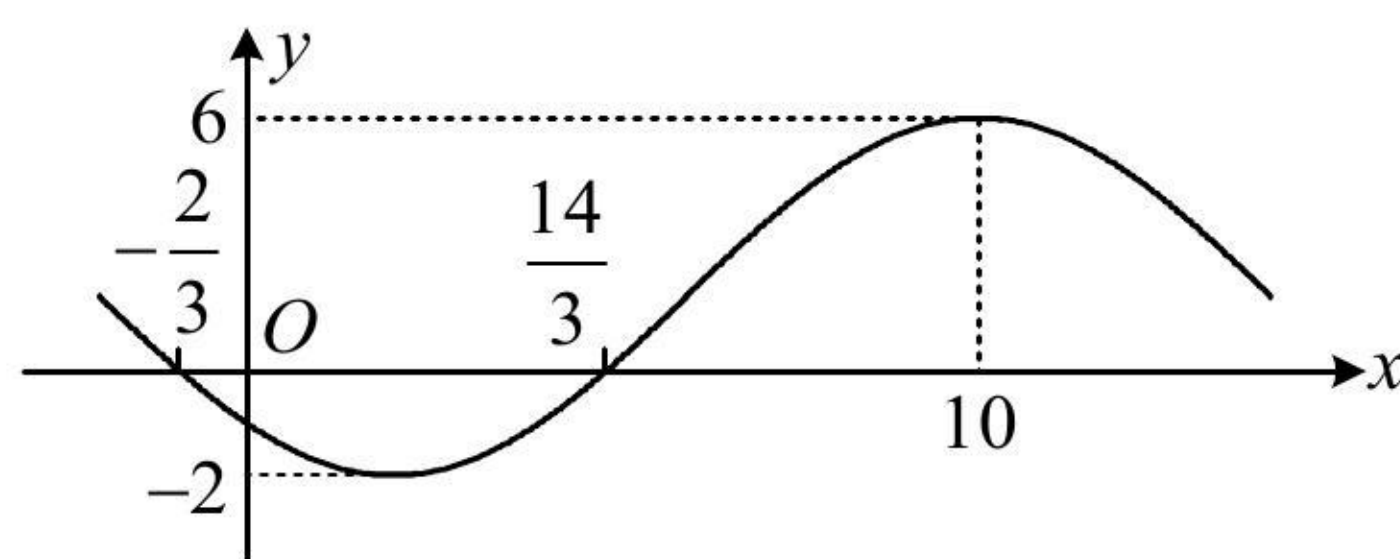
又  $|\varphi| < \frac{\pi}{2}$ , 所以  $k$  只能取 0,  $\varphi = -\frac{\pi}{6}$ , 故  $f(x) = 2\sin(x - \frac{\pi}{6})$ .

答案:  $2\sin(x - \frac{\pi}{6})$

【变式 1】已知函数  $f(x) = A\sin(\omega x + \varphi) + B (\omega > 0, |\varphi| < \frac{\pi}{2})$  的部分图象如图所示, 则 ( )

(A)  $f(x) = -4\sin(\frac{\pi}{8}x + \frac{\pi}{4}) + 2$       (B)  $f(x) = 4\sin(\frac{\pi}{8}x - \frac{\pi}{4}) + 2$

(C)  $f(x) = -4\sin(\frac{\pi}{8}x - \frac{\pi}{4}) + 2$       (D)  $f(x) = 4\sin(\frac{\pi}{8}x + \frac{\pi}{4}) + 2$



解法 1: 图上只有一个最大值点, 求周期还不够, 观察发现可由  $x$  轴上的两个点推断出最小值点,

由图可知,  $x = -\frac{2}{3}$  和  $x = \frac{14}{3}$  的中间  $x = 2$  必为最小值点, 所以  $\frac{T}{2} = 10 - 2 = 8$ ,

从而  $T = 16$ , 故  $\omega = \frac{2\pi}{T} = \frac{\pi}{8}$ , 所以  $f(x) = A\sin(\frac{\pi}{8}x + \varphi) + B$ ,

从图象可以看出最大、最小值分别为 6 和 -2, 可由此求  $A$  和  $B$ , 但由于没给  $A$  的正负, 故需讨论,

①当  $A > 0$  时, 由图可知,  $\begin{cases} A + B = 6 \\ -A + B = -2 \end{cases}$ , 解得:  $A = 4, B = 2$ , 所以  $f(x) = 4\sin(\frac{\pi}{8}x + \varphi) + 2$ ,

最后求  $\varphi$ , 首选最值点, 代最小值点  $x = 2$  或最大值点  $x = 10$  均可, 不妨代  $x = 2$ ,

故  $f(2) = 4\sin(\frac{\pi}{8} \times 2 + \varphi) + 2 = -2$ , 所以  $\sin(\frac{\pi}{4} + \varphi) = -1$ ,

因为  $|\varphi| < \frac{\pi}{2}$ , 所以  $-\frac{\pi}{2} < \varphi < \frac{\pi}{2}$ , 从而  $-\frac{\pi}{4} < \frac{\pi}{4} + \varphi < \frac{3\pi}{4}$ , 故  $\sin(\frac{\pi}{4} + \varphi) = -1$  无解;

②当  $A < 0$  时, 由图可知,  $\begin{cases} -A + B = 6 \\ A + B = -2 \end{cases}$ , 解得:  $A = -4, B = 2$ , 所以  $f(x) = -4\sin(\frac{\pi}{8}x + \varphi) + 2$ ,

接下来再求  $\varphi$ , 还是代最小值点  $x = 2$ ,  $f(2) = -4\sin(\frac{\pi}{4} + \varphi) + 2 = -2 \Rightarrow \sin(\frac{\pi}{4} + \varphi) = 1$ ,

结合  $-\frac{\pi}{4} < \frac{\pi}{4} + \varphi < \frac{3\pi}{4}$  可得  $\frac{\pi}{4} + \varphi = \frac{\pi}{2}$ , 所以  $\varphi = \frac{\pi}{4}$ , 故  $f(x) = -4\sin(\frac{\pi}{8}x + \frac{\pi}{4}) + 2$ .

解法 2: 这种给出部分图象, 选解析式的题, 有时也可结合图象的一些特征, 用排除法来选答案,

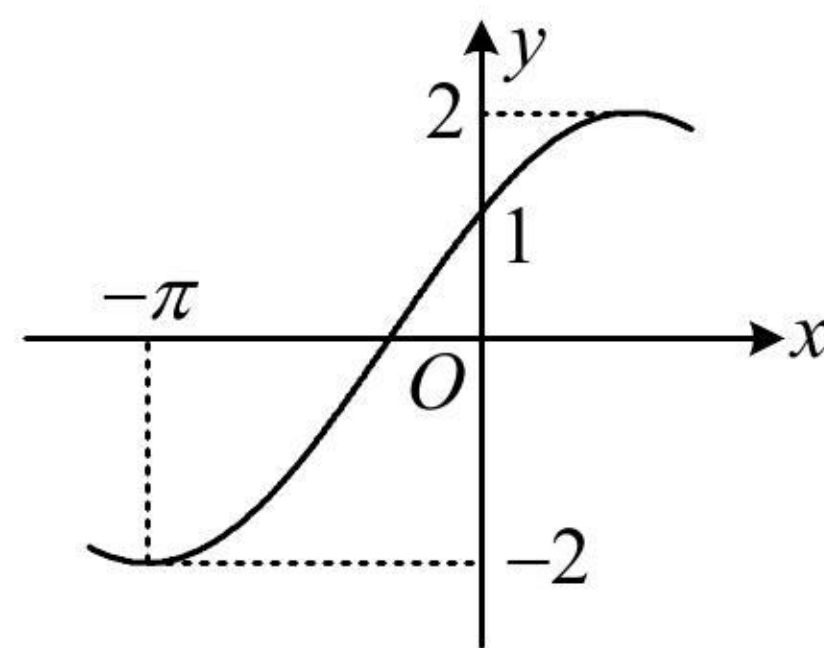
由图可知,  $f(-\frac{2}{3}) = 0$ , 经检验, 选项 B、C 不满足;

又  $f(10) = 6$ , 对于选项 D,  $f(10) = 4\sin(\frac{\pi}{8} \times 10 + \frac{\pi}{4}) + 2 = 4\sin\frac{3\pi}{2} + 2 = -2 \neq 6$ , 与图象不符, 故选 A.

答案：A

【反思】①不确定  $A$  的正负时，可讨论；②选择题抓住图中关键信息，用排除法选答案也是好方法。

【变式 2】下图是函数  $f(x) = A\sin(\omega x + \varphi)$  ( $A > 0, \omega > 0, |\varphi| < \frac{\pi}{2}$ ) 的部分图象，则  $f(\frac{3\pi}{4}) = \underline{\hspace{2cm}}$ .



解析：图中标注了最大、最小值，可由此求  $A$ ，由图可知， $f(x)_{\max} = 2$ ，结合  $A > 0$  可得  $A = 2$ ，

接下来一般的想法是由图上的关键点（最值点、零点）求周期，但本题的关键点只有一个最小值点，也无法推断其它关键点，求不出周期，故尝试把图中标出的  $(-\pi, -2)$  和  $(0, 1)$  这两个点代进解析式，

由图可知，
$$\begin{cases} f(-\pi) = 2\sin(-\omega\pi + \varphi) = -2 & \text{①} \\ f(0) = 2\sin\varphi = 1 & \text{②} \end{cases}$$
，我们发现式②是关于  $\varphi$  的单变量方程，可先求出  $\varphi$ ，

由②可得  $\sin\varphi = \frac{1}{2}$ ，结合  $|\varphi| < \frac{\pi}{2}$  可得  $\varphi = \frac{\pi}{6}$ ，代入①化简得： $\sin(-\omega\pi + \frac{\pi}{6}) = -1$ ，

所以  $-\omega\pi + \frac{\pi}{6} = 2k\pi - \frac{\pi}{2}$ ，故  $\omega = \frac{2}{3} - 2k$  ( $k \in \mathbf{Z}$ )，

要求  $\omega$ ，还需筛选  $k$ ，怎么办呢？由图虽无法看出周期，但能看出周期的范围，进而得到  $\omega$  的范围，

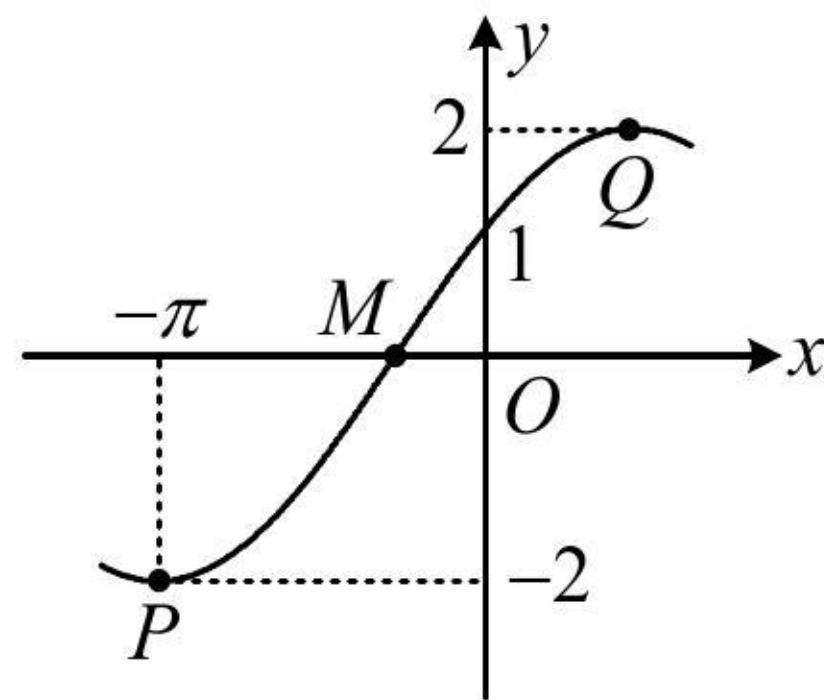
如图， $P, M$  两点的横向距离是  $\frac{T}{4}$ ，此距离小于点  $P$  到  $y$  轴的距离  $\pi$ ，所以  $\frac{T}{4} < \pi$ ，故  $T < 4\pi$ ，

又  $P, Q$  两点的横向距离为  $\frac{T}{2}$ ，此距离大于点  $P$  到  $y$  轴的距离，所以  $\frac{T}{2} > \pi$ ，故  $T > 2\pi$ ，

所以  $2\pi < T < 4\pi$ ，从而  $2\pi < \frac{2\pi}{\omega} < 4\pi$ ，故  $\frac{1}{2} < \omega < 1$ ，结合  $\omega = \frac{2}{3} - 2k$  可得  $k$  只能取 0，此时  $\omega = \frac{2}{3}$ ，

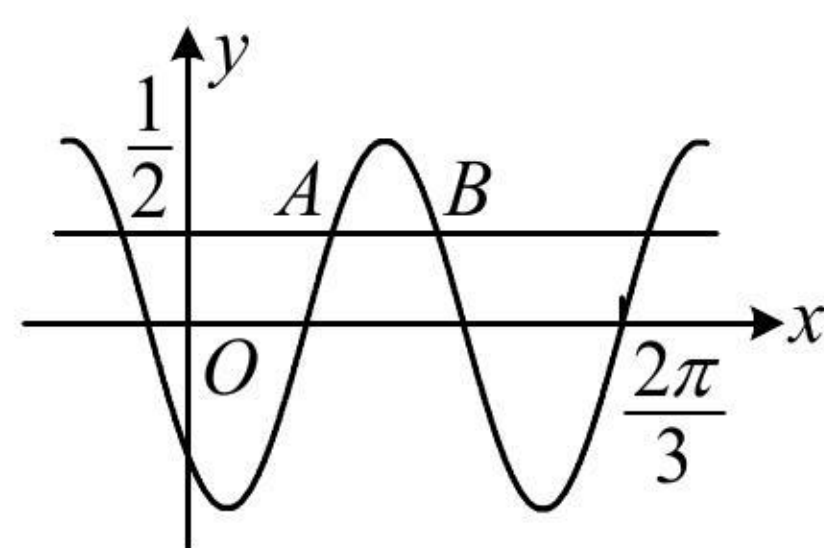
所以  $f(x) = 2\sin(\frac{2}{3}x + \frac{\pi}{6})$ ，故  $f(\frac{3\pi}{4}) = 2\sin(\frac{2}{3} \times \frac{3\pi}{4} + \frac{\pi}{6}) = 2\sin\frac{2\pi}{3} = \sqrt{3}$ .

答案： $\sqrt{3}$



【反思】当无法从图上直接观察或推断出周期时，可以考虑利用最值点、零点这些关键点的横向距离构造不等式限定周期的范围，从而得出  $\omega$  的范围。

【例 3】(2023·新高考 II 卷) 已知函数  $f(x) = \sin(\omega x + \varphi)$ ，如图， $A, B$  是直线  $y = \frac{1}{2}$  与曲线  $y = f(x)$  的两个交点，若  $|AB| = \frac{\pi}{6}$ ，则  $f(\pi) = \underline{\hspace{2cm}}$ .



解析:  $|AB| = \frac{\pi}{6}$  这个条件怎么翻译? 可用  $y = \frac{1}{2}$  求  $A, B$  横坐标的通解, 得到  $|AB|$ , 从而建立方程求  $\omega$ ,

不妨设  $\omega > 0$ , 令  $\sin(\omega x + \varphi) = \frac{1}{2}$  可得  $\omega x + \varphi = 2k\pi + \frac{\pi}{6}$  或  $2k\pi + \frac{5\pi}{6}$ , 其中  $k \in \mathbf{Z}$ ,

由图知  $\omega x_A + \varphi = 2k\pi + \frac{\pi}{6}$ ,  $\omega x_B + \varphi = 2k\pi + \frac{5\pi}{6}$ , 两式作差得:  $\omega(x_B - x_A) = \frac{2\pi}{3}$ , 故  $x_B - x_A = \frac{2\pi}{3\omega}$ ,

又  $|AB| = x_B - x_A = \frac{\pi}{6}$ , 所以  $\frac{2\pi}{3\omega} = \frac{\pi}{6}$ , 解得:  $\omega = 4$ , 故  $f(x) = \sin(4x + \varphi)$ ,

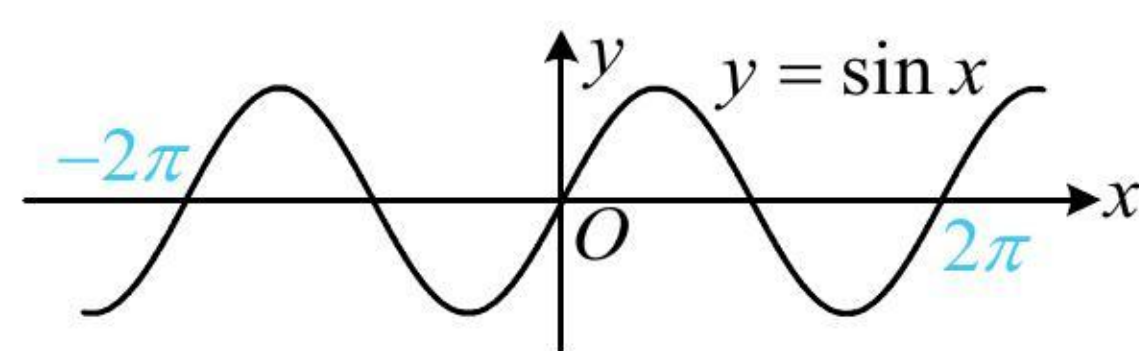
再求  $\varphi$ , 由图知  $\frac{2\pi}{3}$  是零点, 可代入解析式, 注意,  $\frac{2\pi}{3}$  是增区间上的零点,  $y = \sin x$  的增区间上的零点是  $2n\pi$  (如下图中的  $-2\pi, 0, 2\pi$ ), 故应按它来求  $\varphi$  的通解,

所以  $\frac{8\pi}{3} + \varphi = 2n\pi (n \in \mathbf{Z})$ , 从而  $\varphi = 2n\pi - \frac{8\pi}{3}$ , 故  $f(x) = \sin(4x + 2n\pi - \frac{8\pi}{3}) = \sin(4x - \frac{2\pi}{3})$ ,

所以  $f(\pi) = \sin(4\pi - \frac{2\pi}{3}) = \sin(-\frac{2\pi}{3}) = -\sin \frac{2\pi}{3} = -\frac{\sqrt{3}}{2}$ .

答案:  $-\frac{\sqrt{3}}{2}$

《一数·高考数学核心方法》



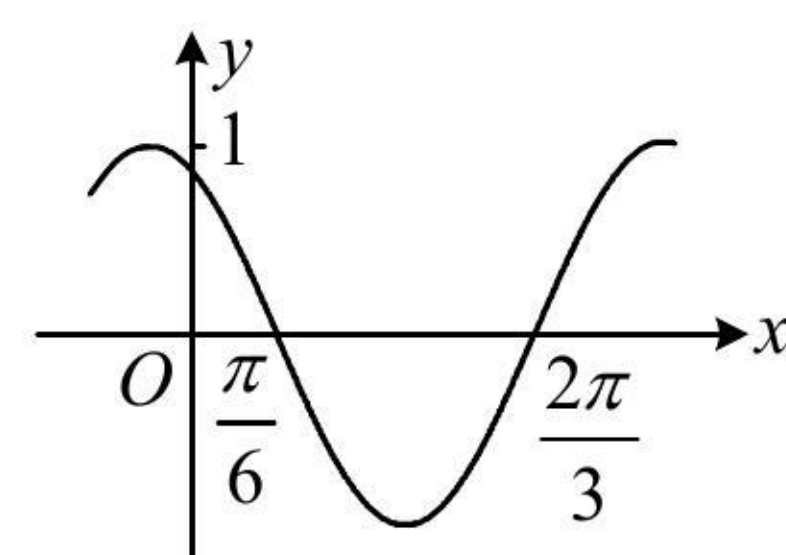
**【反思】** 对于函数  $y = \sin(\omega x + \varphi) (\omega > 0)$ , 若只能用零点来求解析式, 则需尽量确定零点是在增区间还是减区间. “增区间的零点”用  $\omega x + \varphi = 2n\pi$  来求, “减区间的零点”用  $\omega x + \varphi = 2n\pi + \pi$  来求.

### 强化训练

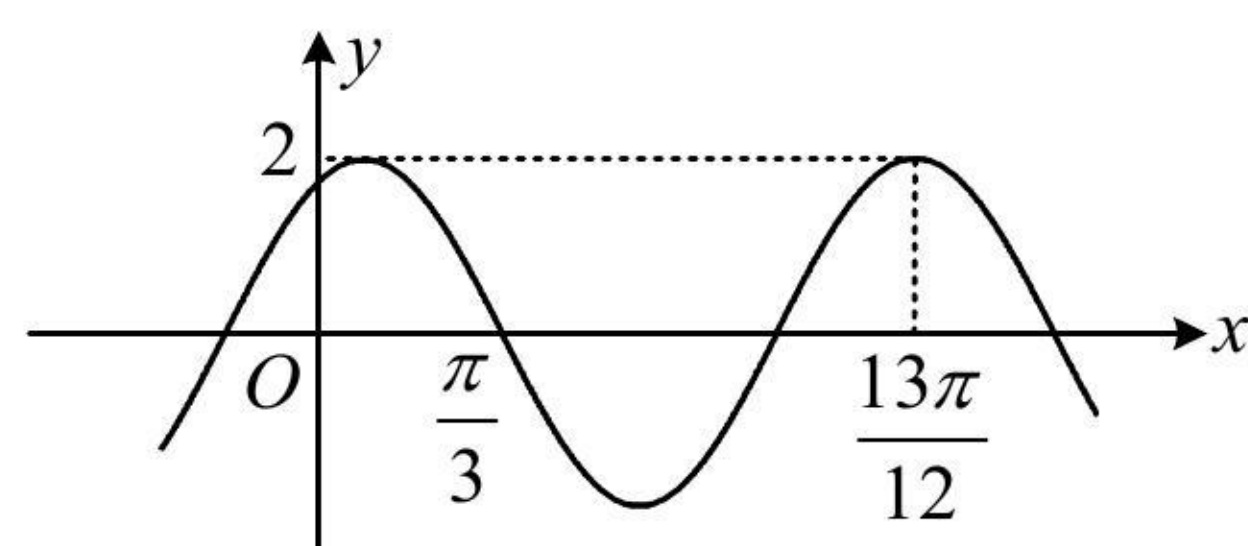
1. (★★) 设  $f(x) = 4\cos(2x - \frac{\pi}{6})\sin 2x$ , 则函数  $y = f(x)$  的值域为\_\_\_\_\_.

2. (★★) 已知函数  $f(x) = \sin^2(x + \frac{\pi}{3}) + \cos^2 x (x \in \mathbf{R})$ , 则  $f(x)$  的最小正周期为\_\_\_\_\_, 值域为\_\_\_\_\_.

3. (2023·重庆模拟改·★★) 如图是函数  $f(x) = \sin(\omega x + \varphi) (\omega > 0, 0 < \varphi < 2\pi)$  的部分图象, 则  $f(x) =$ \_\_\_\_\_.



4. (2021 · 全国甲卷 · ★★★) 已知函数  $f(x) = 2 \cos(\omega x + \varphi)$  的部分图象如图所示, 则  $f(\frac{\pi}{2}) =$  \_\_\_\_\_.



5. (2023 · 全国乙卷 · ★★★) 已知函数  $f(x) = \sin(\omega x + \varphi)$  在区间  $(\frac{\pi}{6}, \frac{2\pi}{3})$  单调递增, 直线  $x = \frac{\pi}{6}$  和  $x = \frac{2\pi}{3}$

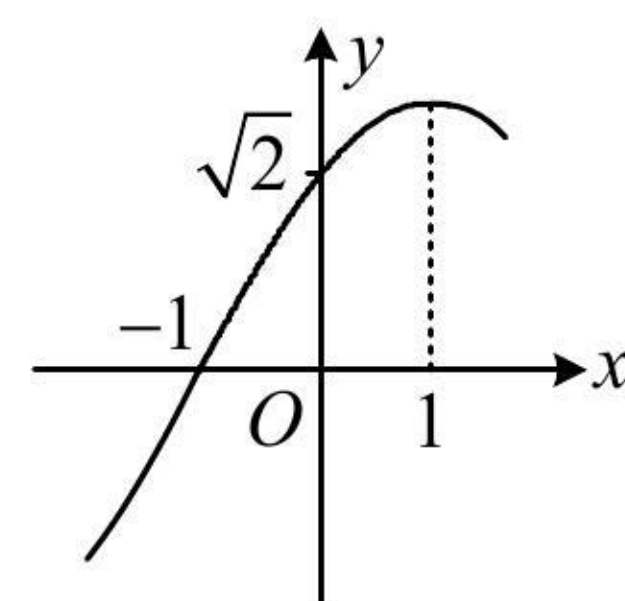
为函数  $y = f(x)$  的图象的两条对称轴, 则  $f(-\frac{5\pi}{12}) =$  ( )

- (A)  $-\frac{\sqrt{3}}{2}$     (B)  $-\frac{1}{2}$     (C)  $\frac{1}{2}$     (D)  $\frac{\sqrt{3}}{2}$

6. (2023 · 海南模拟 · ★★★) 函数  $f(x) = A \cos(\omega x + \varphi)$  ( $A > 0, \omega > 0, |\varphi| < \frac{\pi}{2}$ ) 的部分图象如图所示, 则

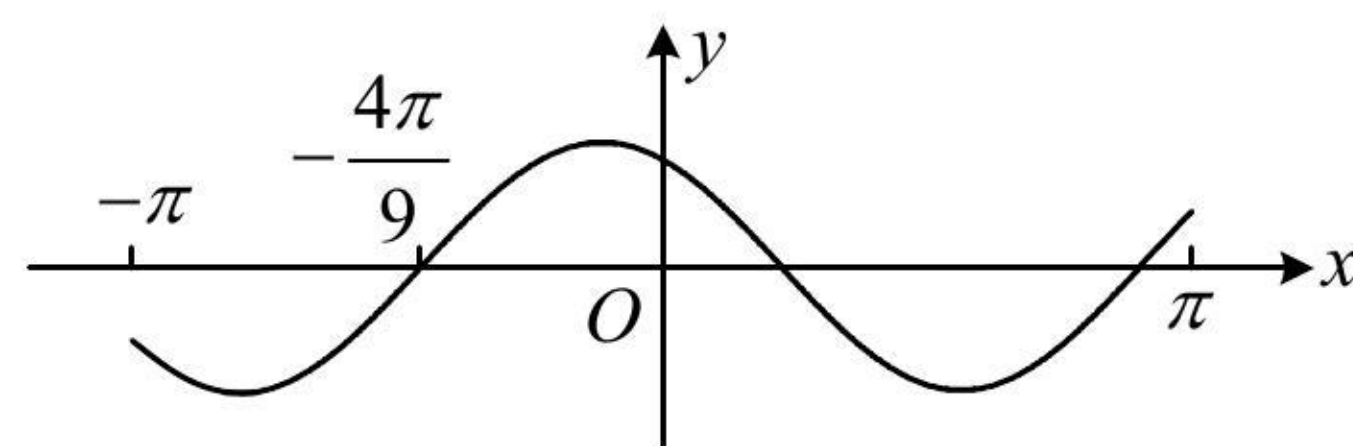
$f(\frac{7}{3}) =$  ( )

- (A)  $\frac{1}{2}$     (B)  $\frac{\sqrt{2}}{2}$     (C)  $\frac{\sqrt{3}}{3}$     (D) 1



7. (2020 · 新课标 I 卷 · ★★★★★) 设  $f(x) = \cos(\omega x + \frac{\pi}{6})$  在  $[-\pi, \pi]$  的图象大致如下图, 则  $f(x)$  的最小正周期为 ( )

- (A)  $\frac{10\pi}{9}$     (B)  $\frac{7\pi}{6}$     (C)  $\frac{4\pi}{3}$     (D)  $\frac{3\pi}{2}$



8. (2023 · 山东潍坊二模 · ★★★★★) (多选) 已知函数  $f(x) = A\sin(\omega x + \varphi) + B$  ( $A > 0, \omega > 0, |\varphi| < \pi$ ) 的部分图象如图所示, 则 ( )

- (A)  $f(x) \leq f(\frac{11\pi}{6})$
- (B) 函数  $f(x + \frac{\pi}{6})$  为偶函数
- (C)  $f(x) + f(\frac{\pi}{6} - x) = 2$
- (D) 曲线  $y = f(x)$  在  $x = \frac{\pi}{12}$  处的切线斜率为 -2

